

10 класс

2 тур

Уважаемые члены жюри! В практическом туре предусмотрено выполнение 77 заданий, при правильном решении которых участники олимпиады могут набрать 132 балла. Правильные ответы обозначены жирным шрифтом.

I. Выберите правильный вариант ответа





(каждый правильный ответ – 1 балл)

<p>1. Земледелие и животноводство на территории Беларуси повсеместно утвердилось с наступлением:</p> <ul style="list-style-type: none">а) неолитаб) бронзового векав) железного векаг) средневековья <p>2. Первой формой религиозных верований человека являлся:</p> <ul style="list-style-type: none">а) тотемизмб) фетишизмв) магияг) анимизм <p>3. Государство Маурьев достигло расцвета во время правления царя:</p> <ul style="list-style-type: none">а) Эхнатонаб) Цинь Шихуандив) Ашокиг) Навуходоносор <p>4. В битве при Херонее в 334 г. до н.э. победу одержали:</p> <ul style="list-style-type: none">а) македонянеб) спартанцыв) персыг) афиняне <p>5. Одним из первых о балтах упоминает римский историк:</p> <ul style="list-style-type: none">а) Прокопий Кесарийскимиб) Несторв) Тацитг) Ксенофонт	<p>6. Специальная церемония передачи земли от сеньора к вассалу в период средневековья называлась:</p> <ul style="list-style-type: none">а) инвеститураб) феодализмв) вотчинаг) оммаж <p>7. В 1157 г. князь Юрий Ярославич возглавил:</p> <ul style="list-style-type: none">а) Полоцкое княжествоб) Минское княжествов) Туровское княжествог) Гродненское княжество <p>8. Монгольская династия, правившая с 1271 г. в Китае носила название:</p> <ul style="list-style-type: none">а) Юаньб) Танв) Яматог) Аббасидов <p>9. Армия ВКЛ под руководством К. Ходкевича в 1605 г. разгромила шведов в битве:</p> <ul style="list-style-type: none">а) под Кирхгольмомб) на реке Невав) под Вилькомиромг) под Оршей <p>10. Первый на славянских землях университет был основан в 1348 г. в:</p> <ul style="list-style-type: none">а) Прагеб) Полоцкев) Варшавег) Кракове
---	--

<p>11. Автором политического плаката под названием «Мир хижинам, война дворцам!» является:</p> <p>а) Я. Дроздович б) М. Шагал в) К. Малевич г) И. Хруцкий</p> <p>12. Манифест, которым провозглашалось образование Социалистической Советской Республики Беларуси (ССРБ), был обнародован:</p> <p>а) 25 октября 1917 г. б) 1 января 1919 г. в) 25 марта 1918 г. г) 3 марта 1918 г.</p> <p>13. Партизанский парад, посвященный освобождению столицы БССР, состоялся в Минске:</p> <p>а) 25 ноября 1943 г. б) 3 июля 1944 г. в) 28 июля 1944 г. г) 16 июля 1944 г.</p> <p>14. В годы Великой Отечественной войны на железнодорожном узле Орша диверсионную деятельность развернул бывший начальник паровозного депо этого узла</p> <p>а) К. Заслонов б) П. Машеров в) В. Корж г) М. Шмырёв</p> <p>15. Брестский мирный договор был заключен между Германией и Советской Россией:</p> <p>а) 23 февраля 1917 г.</p>	<p>б) 1 января 1919 г. в) 18 марта 1921 г. г) 3 марта 1918 г.</p> <p>16. Когда была принята первая конституция Японии и созван японский парламент:</p> <p>а) 1832, 1833 гг. б) 1854, 1855 гг. в) 1889, 1890 гг. г) 1913, 1914 гг.</p> <p>17. Одним из теоретиков анархо-синдикализма был:</p> <p>а) М. А. Бакунин б) М. М. Сперанский в) А. Ф. Керенский г) А. И. Герцен</p> <p>18. Какой титул принял Кромвель в 1653 г.?</p> <p>а) лорд-канцлер б) лорд-протектор в) лорд-казначей г) король</p> <p>19. В каких войнах участвовала Франция в эпоху правления Людовика XIV?</p> <p>а) война за испанское наследство; б) Тридцатилетняя война; в) Столетняя война; г) семилетняя война.</p> <p>20. Концлагерь, созданный польскими властями на территории Западной Беларуси в 1934 г. находился в:</p> <p>а) Пинске б) Березе-Картузской в) Бресте г) Гродно</p>
---	--

II.	Правильно соотнесите элементы двух множеств (Например: А-1, Б-2) (Каждый полный правильный ответ – 4 балла, в задании №28 – 5 баллов)
------------	---

21. Произведения живописи и их авторов:

			
А-1	Б-3	В-4	Г-2
1. М. Савицкий	2. В. Серов	3. В. Волков	4. Я. Дроздович.

22. Соотнесите имена королей польских, великих князей литовских и их жен:

а) Сигизмунд I б) Стефан Баторий в) Сигизмунд III Ваза г) Генрих Валуа	1) Анна Ягеллонка 2) Констанция Австрийская 3) Луиза Лотарингская 4) Бона Сфорца		
А-4	Б-1	В-2	Г-3

23. Деятели науки и страны, в которых они проживали:

а) Н. Бор б) В. Рентген в) П. Кюри г) Э. Резерфорд	1) Англия 2) Франция 3) Германия 4) Дания		
А-4	Б-3	В-2	Г-1

24. Деятели культуры и сферу их деятельности:

а) В. Жуковский б) Т. Эдисон в) Б. Вотье г) Г. Берлиоз	1) кинематограф 2) живопись 3) музыка 4) литература		
А-4	Б-1	В-2	Г-3

25. Соотнесите имена исторических личностей с их характеристиками:

а) А.В. Колчак б) А.И. Деникин в) П.Н. Врангель г) Н.Н. Юденич	1) Главнокомандующий Русской армией в Крыму 2) Возглавлял силы, действовавшие против большевиков на Северо-Западе, «мастер импровизации» 3) Верховный правитель России 4) Главнокомандующий Вооруженными силами Юга России		
А-3	Б-4	В-3	Г-2

26. Соотнесите события Северной войны с годами, в которые они произошли:

а) Битва под Нарвой	1) 1714 г.
б) Сражение у д. Лесная	2) 1700 г.
в) Морское сражение у мыса Гангут	3) 1721 г.
г) Подписание Ништадтского мирного договора	4) 1708 г.
А-2	Б-4
В-1	Г-3

27. Соотнесите фамилию художника и название картины:

а) И. Бродский	1) «Революция»
б) М. Шагал	2) «Декрет о земле»
в) В. Серов	3) «А.Ф. Керенский»
г) Н. Воронов	4) «Утро в октябре. Минск. 1917 г.»
А-3	Б-1
В-2	Г-4

28. Произведения литературы и искусства с представленными именами:

а) «Энеида»	1) Фидий
б) «Статуя Зевса»	2) Синан
в) «Площадь Святого Петра в Риме»	3) Вергилий
г) «Лютнист»	4) Караваджо
д) «Мечеть Селемие»	5) Дж. Бернини
А-3	Б-1
В-5	Г-4
Д-2	

III.	Расставьте в правильной хронологической последовательности (Каждый полный ответ 4 балла)
-------------	--

29. Расположите события Второй мировой войны в хронологической последовательности:

А. Белорусская наступательная операция «Багратион»	В. Капитуляция Японии
Б. Создание антигитлеровской коалиции	Г. Тегеранская конференция
1 Б	2 Г
3 А	4 В

30. Исторические события второй половины XIX века:

А. Начало издания газеты «Мужыцкая праўда»	В. Начало проведения судебной реформы в Беларуси
Б. Убийство царя Александра II	Г. Создание группы «Гомон».
1 А	2 В
3 Б	4 Г

31. Получение белорусскими городами магдебургского права:

А. Полоцк	В. Минск
Б. Брест	Г. Слуцк
1 Б	2 Г
3 А	4 В

32. Правление королей Речи Посполитой:

А. Генрих Валуа		В. Август II Сильный	
Б. Стефан Баторий		Г. Сигизмунд II Август	
1 Г	2 А	3 Б	4 В

33. События первой четверти XX века:

А. Подписание Рижского мирного договора между РСФСР, УССР и Польшей		В. Брестский мирный договор	
Б. Первое территориальное укрупнение БССР		Г. Сен-Жерменский договор с Австрией	
1 В	2 Г	3 А	4 Б

34. События XVIII века в истории Речи Посполитой:

А. Война за польское наследство		В. «Великий сейм»	
Б. «Немой» сейм		Г. Создание Торуньской конфедерации	
1 Б	2 А	3 Г	4 В

IV.	Выберите правильный вариант ответа За каждый правильный ответ – 2 балла
<p>35. Верно ли, что:</p> <p>1) Война за испанское наследство (1701–1714) ознаменовала ослабление падение Испании?</p> <p>2) Война за испанское наследство (1701–1714) ослабление международных позиций Франции?</p> <p>а) верно 1 б) верно 2 в) верно 1 и 2 г) неверно 1 и 2</p> <p>36. Верно ли, что:</p> <p>1) На Всебелорусском съезде 1917 г. сторонники ВБР добивались провозглашения Беларуси как равноправной республики в составе общероссийской федерации народов?</p> <p>2) На Всебелорусском съезде 1917 г. делегаты от БОК предлагали областную автономию Беларуси в составе Советской России?</p> <p>а) верно 1</p>	<p>б) верно 2 в) верно 1 и 2 г) неверно 1 и 2</p> <p>37. Верно ли, что:</p> <p>1) Роялистский мятеж 1795 г. в Париже был подавлен Робеспьером?</p> <p>2) В 1804 г. «императором французов» стал Наполеон III?</p> <p>а) верно 1 б) верно 2 в) верно 1 и 2 г) неверно 1 и 2</p> <p>38. Верно ли, что:</p> <p>1) США приобрели Западную Луизиану за 45 млн долларов у Испании?</p> <p>2) Массовое общенациональное движение против рабства в США называлось протекционизм?</p> <p>а) верно 1 б) верно 2 в) верно 1 и 2</p>

<p>г) неверно 1 и 2</p> <p>39. Верно ли, что:</p> <p>1) «зелёная революция» произошла в Ираке?</p> <p>2) результатом «зелёной</p>	<p>революции» стала исламизация Ирана?</p> <p>а) верно 1</p> <p>б) верно 2</p> <p>в) верно 1 и 2</p> <p>г) неверно 1 и 2</p>
--	--

V.	<p>Определите следующие понятия (Каждый правильный ответ – 1 балл)</p>	
40.	Социогенез	это исторический процесс становления человеческой личности и межличностных взаимоотношений, а также формирования собственно человеческого общества с системой социальных отношений.
41.	Тысяцкий	глава городского ополчения в древнерусских городах
42.	Колоны	арендаторы земли в Древнем Риме. Колоны получали от землевладельца право обрабатывать (арендовать) участок земли, а взамен выплачивали ему денежный налог. В IV веке они были прикреплены к земле своего хозяина и уже не могли уйти от него.
43.	Огородники	феодално-зависимые крестьяне в ВКЛ и Российской империи, которых селили на небольших участках земли и обязывали исполнять определенные повинности.
44.	Земство	выборный орган местного самоуправления в Российской империи во второй половине XIX – начале XX вв.
45.	Диссиденты	верующие-христиане, которые не придерживались господствующего вероисповедания, преимущественно в странах, где государственной или господствующей религией являлось католичество или протестантизм
46.	«Шоковая терапия»	радикальные экономические реформы перехода к рыночной экономике, осуществляющиеся в короткие сроки и сопровождающиеся рядом отрицательных последствий: инфляцией, ростом безработицы, падением уровня жизни и т. д.
47.	«Разбор» шляхты	комплекс мероприятий самодержавия, в результате которых большая часть мелкой шляхты исключалась из дворянства и переводилась в податные сословия
48.	Маккартизм	политическое течение, направленное против левых и либеральных деятелей и организаций в США. Свое название получило по имени его организатора.
49.	Всебелорусское народное собрание	особая форма народовластия в Республике Беларусь, общее собрание представителей власти и белорусского общества, на котором обсуждаются результаты

		социально-экономического развития и утверждаются планы на следующий пятилетний срок.
--	--	--

VI.	Отметьте «птичкой» в соответствующем месте, какое событие произошло раньше За каждый правильный ответ – 1 балл		
50.	Исчезновение милоградской археологической культуры	или	Появление вельбарской археологической культуры
51.	Битва при Пуатье	или	Грюнвальдская битва
52.	Утрехтская уния	или	Кейданская уния
53.	Венский конгресс	или	Первый раздел Речи Посполитой
54.	«Славная революция» в Англии	или	Термидорианский переворот
55.	Начало религиозных войн между католиками и протестантами во Франции	или	Опубликование «95 тезисов» М. Лютера. Начало Реформации
56.	Война в Боснии и Герцеговине между сербскими и хорватско-мусульманскими формированиями	или	Начало военных действий между сербами и албанцами в сербском крае Косово
57.	Подписание Рижского мирного договора	или	Подписание Брестского мирного договора
58.	Карибский кризис	или	Подписание Заключительного акта Совещания по безопасности и сотрудничеству в Европе (СБСЕ)
59.	Исламская революция в Иране	или	Четвертая республика во Франции

VII	Правильно расшифруйте аббревиатуры (Каждый правильный ответ – 2 балла)	
60.	СЭВ	<i>Совет экономической взаимопомощи</i>
61.	СРЮ	<i>Союзная Республика Югославия</i>
62.	КПК	<i>Коммунистическая партия Китая</i>

VIII.	Определите историческое событие, которое отражено на картинах и в каком году они произошли (Каждый полный ответ – 2 балла. Всего за выполнение задания – 12 баллов)	
		
63. Битва при Лас Навас де Толоса	74. Сейм 1773, первый раздел Речи Посполитой	
1212 г.	1773	
		
65. Встреча в Каноссе Генриха IV и Григория VII	66. Подписание Вестфальского мира	
1077	1648	
		
67. Восстание в Париже	68. Битва на реке Пищань	
1848	984	

IX.	Определите авторов и названия произведений		
(Каждый полный ответ 2 балла. Всего за задания – 12 баллов)			
			
69. Джотто ди Бондоне	70. Иероним Босх	71. Джорджо Вазари	
«Оплакивание Христа»	«Блудный сын»	«Кузница Гефеста»	
			
72. Рембрандт	73. Сандро Боттичелли	74. Диего Веласкес	
«Ночной дозор».	«Весна»	«Менины»	
X.	Определите памятники архитектуры и город, где они находятся		
(Каждый полный ответ 2 балла. Всего за задание – 6 баллов)			
			
75 Зиккурат в Уре	76 Пантеон. Рим	77. Софийский собор в Полоцке	